

2025 年黑龙江省（吉林辽宁内蒙古）普通高等学校招生选择性考试

地理

机密★启用前

2025 年黑龙江省(吉林辽宁内蒙古)普通高等学校招生选择性考试

地理试题

本试卷共 19 题，共 100 分，共 8 页。考试结束后，将本试题和答题卡一并交回。

注意事项：1. 答题前，考生先将自己的姓名、准考证号码填写清楚，将条形码准确粘贴在条形码区域内。

2. 选择题必须使用 2B 铅笔填涂；非选择题必须使用 0.5 毫米黑色字迹的签字笔书写，字体工整，笔记清楚。

3. 请按照题号顺序在答题卡各题目的答题区域内作答，超出答题区域书写的答案无效；在草稿纸、试卷上答题无效。

4. 作图可先使用铅笔画出，确定后必须用黑色字迹的签字笔描黑。

5. 保持卡面清洁，不要折叠、不要弄破、弄皱，不准使用涂改液、修正带、刮纸刀。

一、选择题：本题共 16 小题，每小题 3 分，共 48 分。在每小题给出的四个选项中，只有一项

是符合题目要求的。

乡村绿色发展是实现乡村全面振兴的重要途径，具有阶段性特征。安吉县黄杜村位于浙江省北部，1997 年开始种植白茶，走绿色发展之路，先后完成了开（茶）园保绿、村庄环境治理、有机茶园、茶庄园等项目建

设，成效显著。黄杜村从种茶到茶旅、茶文化休闲产业融合发展，茶衍生产业不断迭代升级。2025 年，该村

采取措施全面推动生产、生活向更高层次绿色发展。据此完成 1~2 题。

1. 黄杜村白茶衍生产业不断迭代升级的驱动力是（ ）

A. 良好的区位交通 B. 多元的市场需求 C. 优美的生态环境 D. 知名的绿色品牌

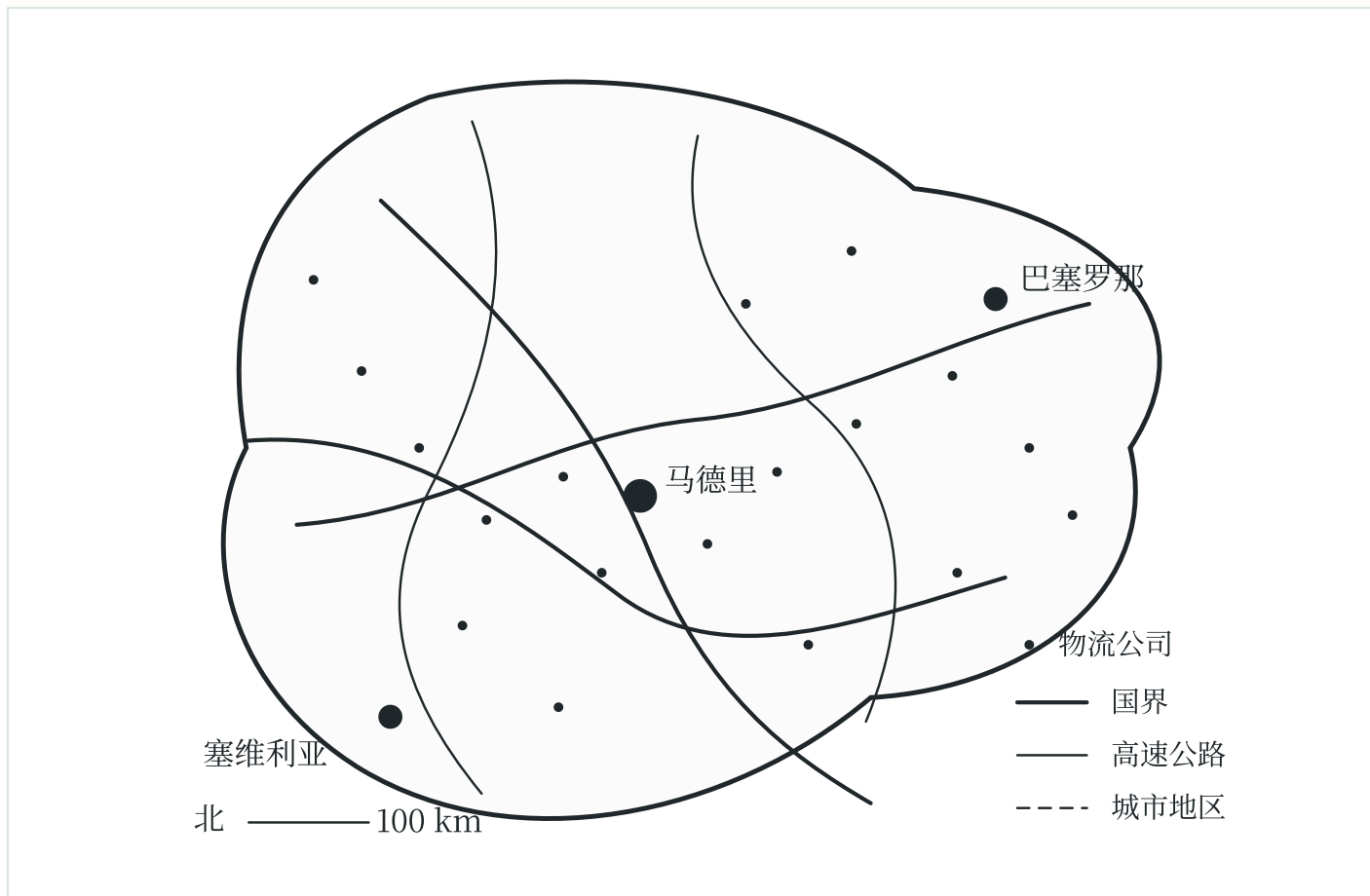
2. 推动黄杜村向更高层次绿色发展的有力措施是（ ）

A. 推广清洁能源使用全覆盖 B. 完善垃圾分类与收集系统

C. 扩大规模化茶园的种植面积 D. 大力吸引各类外来投资项目

物流公司的区位选择对物流业发展至关重要。研究发现，在西班牙本土，物流公司距高速公路的平均距离

从1997年的3.1千米变为2014年的2千米。图示意2014年西班牙本土物流公司的空间分布状况。据此完成



3~4 题。

3. 影响西班牙本土物流公司分布的主导因素是 ()

- A. 土地价格、交通条件
- B. 信息服务、土地价格
- C. 信息服务、市场规模
- D. 市场规模、交通条件

4. 西班牙本土物流公司与高速公路平均距离的变化, 使物流公司 ()

- A. 效率提高
- B. 客户增多
- C. 规模扩大
- D. 服务改善

牡蛎、贻贝等双壳贝类环境适应性强, 主要滤食浮游生物和有机颗粒, 其生长过程中吸收并固定二氧化碳。

福建省莆田市秀屿区是重要的双壳贝类养殖基地。近年未, 莆田市持续开展海上养殖转型升级, 引导海上养殖

向生态化方向发展。2022年5月, 福州市某企业出资20余万元, 向秀屿区某水产养殖公司购买双壳贝类碳汇,

用于抵消其生产经营活动中的碳排放, 是全国首例双壳贝类碳汇交易。据此完成5~6题。

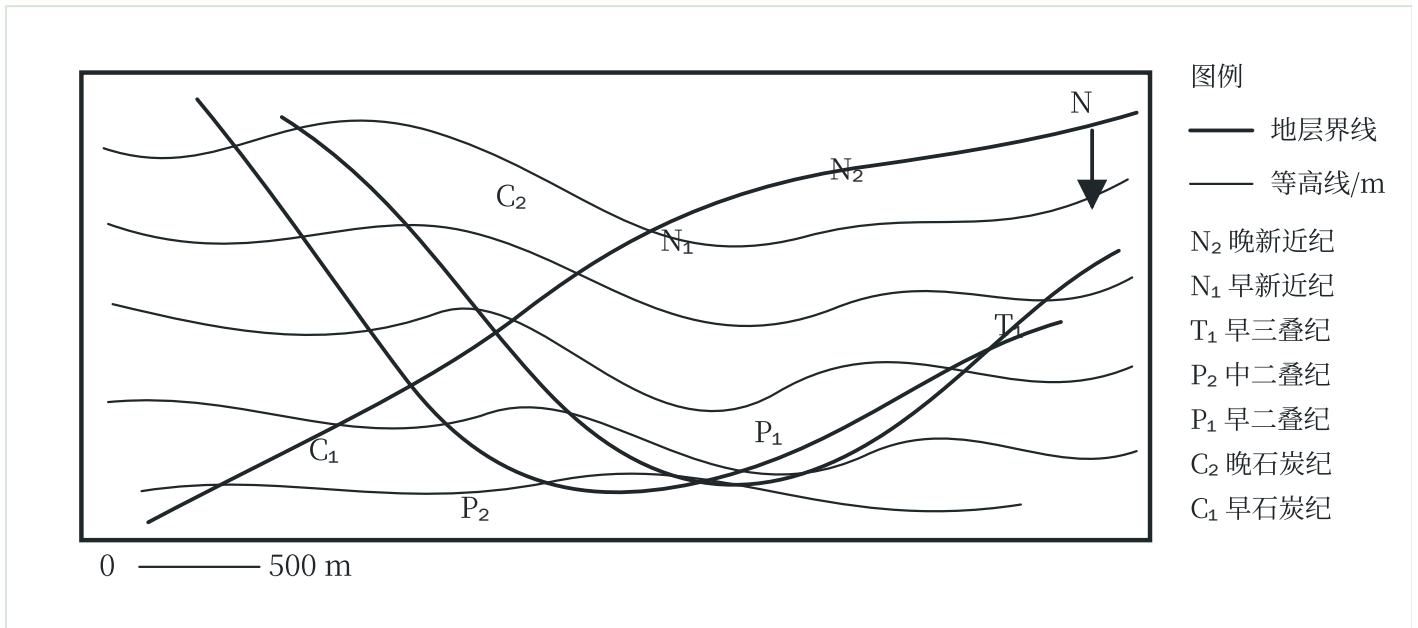
5. 扩大秀屿区牡蛎养殖碳汇量的有效措施是 ()

- A. 增加养殖品种
- B. 降低企业的碳排放
- C. 改善养殖水质
- D. 提升养殖单产水平

6. 秀屿区开展双壳贝类碳汇交易能够 ()

- A. 提高资源利用率 B. 鼓励生态养殖 C. 改善海岸带景观 D. 提升贝类价格

科研团队对某区域地层进行调查后，将地层界线绘制在地形图上 (图)



。地层对应的地质年代由老到新为

早石炭纪至晚新近纪，其中，中三叠纪至早新近纪之间的地层缺失。据此完成 7~8 题。

7. 该区域内呈水平分布的地层对应的地质年代是 ()

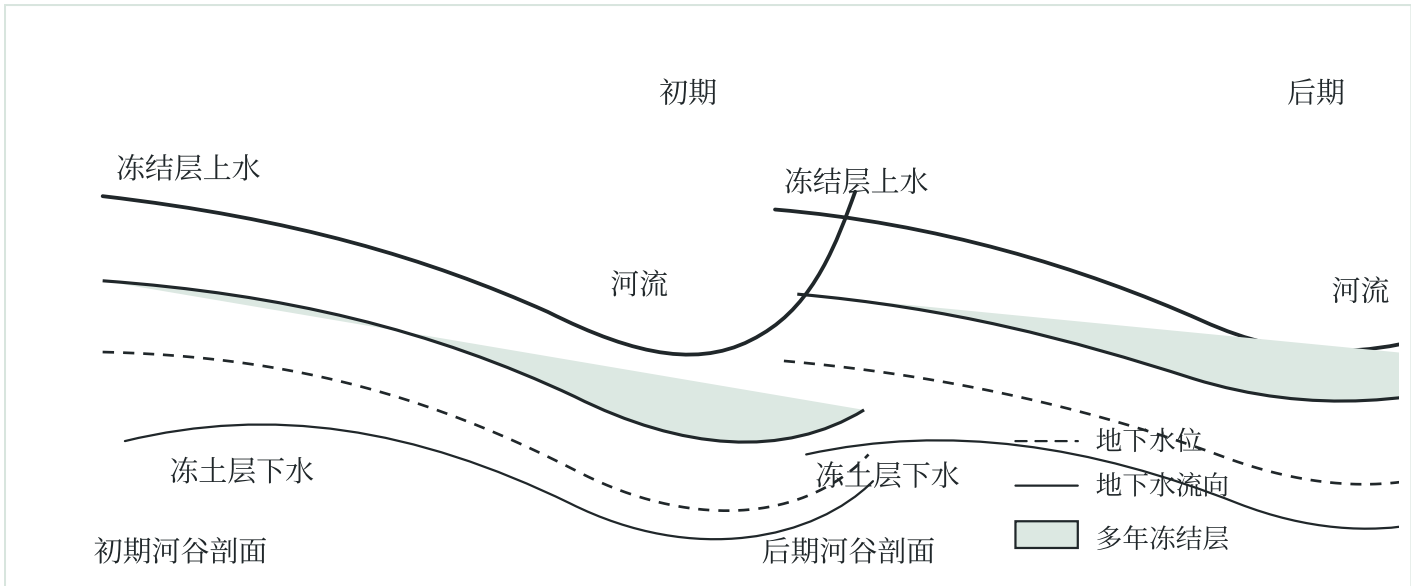
- A. 早石炭纪、晚石炭纪 B. 中二叠纪、晚二叠纪
C. 早三叠纪、中三叠纪 D. 早新近纪、晚新近纪

8. 早石炭纪至早三叠纪时期，该区域主要经历 ()

- A. 沉积过程 B. 侵蚀过程 C. 褶皱变形 D. 断裂位移

某河发源于祁连山脉，其河源区分布的厚层松散沉积物构成了地下水的主要含水层。长期监测发现，随着气候变暖，冻土退化导致地下水的存储、运移及出露发生变化。图为监测初期和后期该河河源区河谷剖面示意

图。据此完成 9~10 题。



9. 地下水出露点移动的原因及方向是 ()

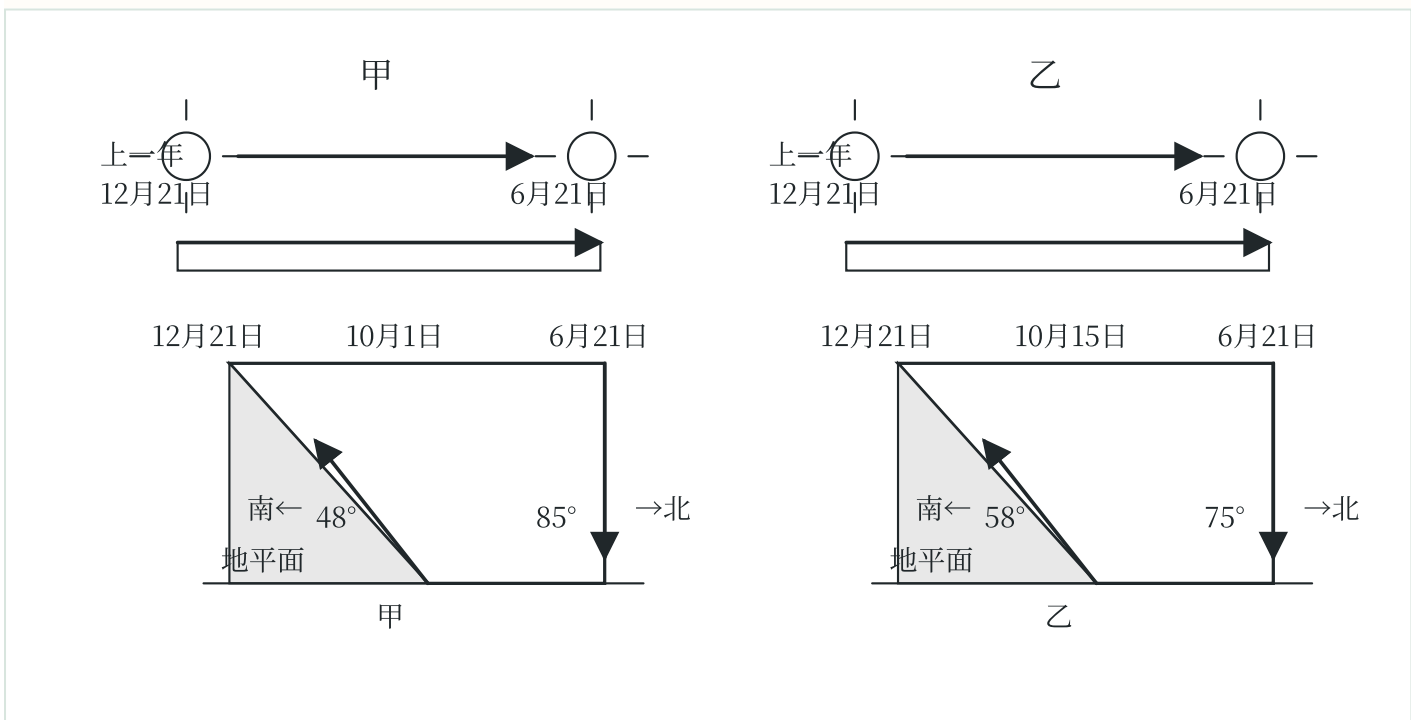
- A. 冻土活动层变厚, 向坡上移动
- B. 多年冻结层密度变大, 向坡下移动
- C. 多年冻结层变薄, 向坡下移动
- D. 多年冻结层面积变小, 向坡上移动

10. 河流接受地下水补给的径流量 ()

- A. 增加且峰值提前
- B. 增加且峰值推迟
- C. 减少且峰值提前
- D. 减少且峰值推迟

西高止山沿印度半岛西海岸分布, 呈西北—东南走向。位于该山地的甲、乙两区土壤水分特征受气温、降水和坡向影响显著。图示意从上一年 12 月 21 日到当年 2 月 21 日甲、乙两区不同日期正午太阳高度以及雨季

(灰色) 多年平均时长。据此完成 11~13 题。



11. 5月和10月的甲、乙两区多年平均土壤含水率中最小值出现在（ ）

- A. 5月甲区 B. 10月甲区 C. 5月乙区 D. 10月乙区

12. 甲、乙两区南北坡太阳辐射存在差异，由此导致旱季土壤含水率（ ）

- A. 南坡高于北坡，且甲区南北坡之间差异更小
B. 南坡高于北坡，且乙区南北坡之间差异更小
C. 北坡高于南坡，且甲区南北坡之间差异更大
D. 北坡高于南坡，且乙区南北坡之间差异更大

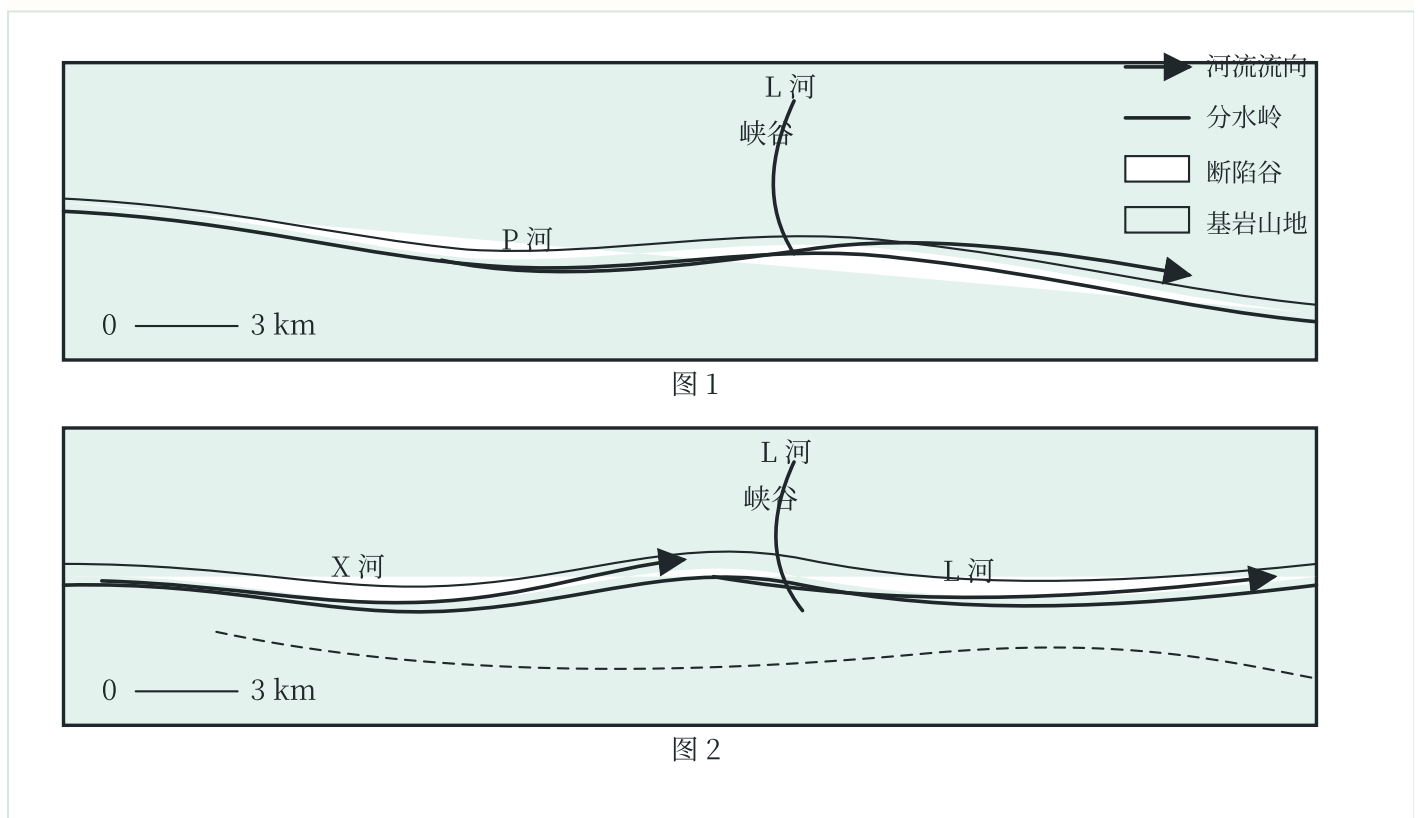
13. 雨季甲区山脉西坡土壤表层物质较东坡更易发生的变化是（ ）

- A. 粗粒比例降低 B. 盐分聚集 C. 风化碎屑增加 D. 养分流失

青藏高原某断陷谷地势西高东低，海拔3470—3650米。距今1.8万年前，断陷谷中的P河沉积了深厚的松散物质。分水岭以北，L河源区发育了深切峡谷，河床海拔3280—3320米。距今1.8万年以来，L河通过潮

源侵蚀切穿分水岭，在断陷谷内向上游持续延伸近80千米。此后，L河的支流X河开始发育。图1、图2分别

示意距今1.8万年前和现代断陷谷及其周边地貌与水系格局。据此完成14~16题。



14. L河从基岩山地延伸至断陷谷时，其（ ）

- A. 河水流量减少 B. 泥沙含量减少 C. 溯源侵蚀加快 D. 沉积物质增多

15. 推断 P 河变化的先后顺序是 ()

①P 河改道进入 X 河 ②P 河中游断流 ③P 河下游断流 ④L 河袭夺 P 河

- A. ①③②④ B. ④③①② C. ①②④③ D. ④②③①

16. 断陷谷内, L 河比 X 河 ()

- A. 河床纵比降更小 B. 年均径流量更小 C. 沉积物粒径更大 D. 河流阶地地面更窄

二、非选择题: 本题共 3 小题, 共 52 分。

17. 阅读图文材料, 完成下列要求。(16 分)

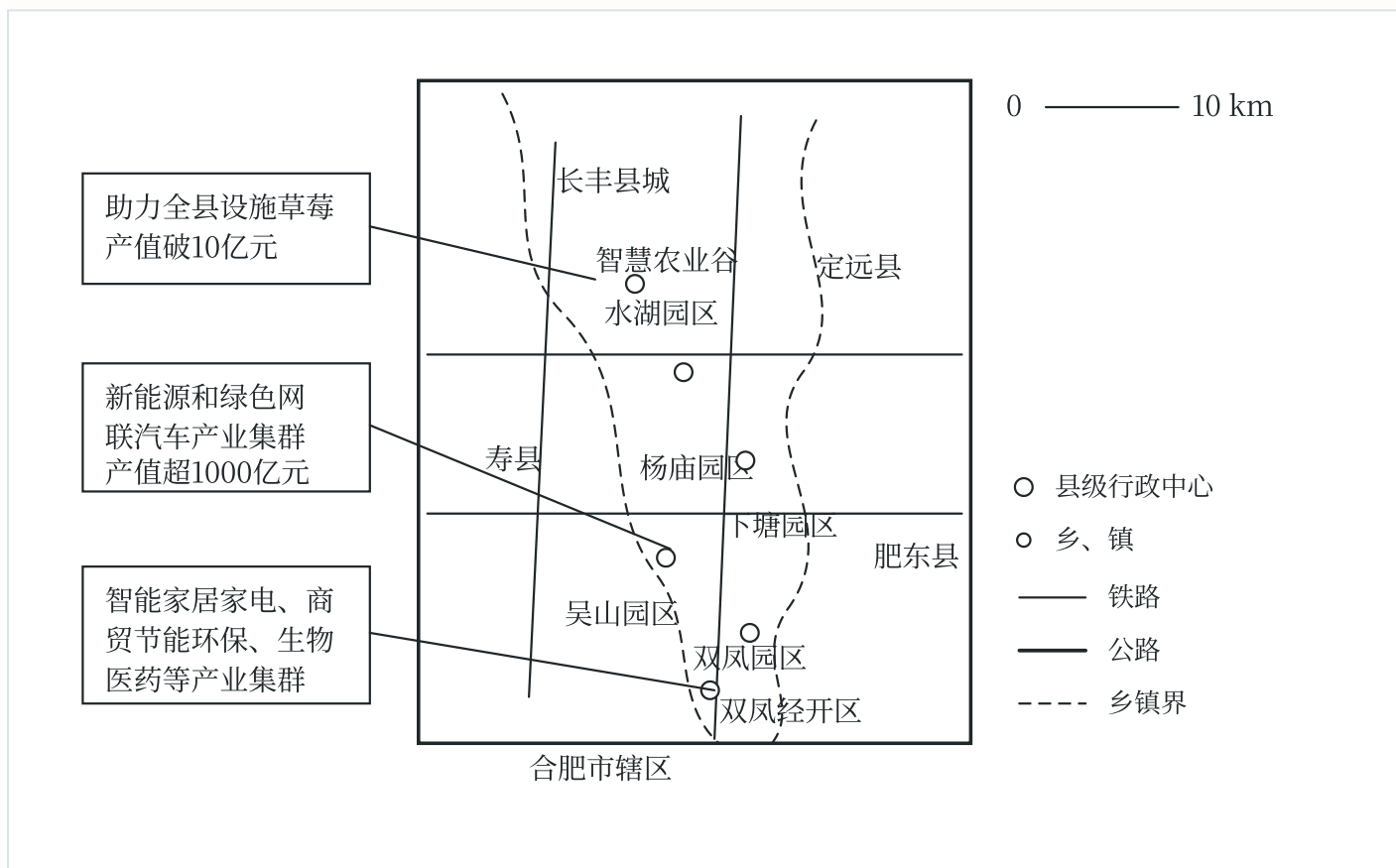
长丰县位于合肥市北部, 长期以农业为主。2001 年, 长丰县实施了“工业立县”

“先南后北、非均衡发展”

战略。2007 年, 长丰县岗集园区、双凤经济开发区初步形成以汽配、食品加工、建材等为主的产业集群。2024

年, 长丰县围绕“一区六园”高质量培育产业集群, 并依托北部智慧农业谷推进农业现代化, 逐步构建城乡空

间均衡发展格局。图为 2024 年长丰县主要产业集群情况以及“一区六园”、智慧农业谷等位置示意图。



(1) 根据区位条件, 说明长丰县实施“先南后北、非均衡发展”战略的主要原因。(4 分)

(2) 概括 2007—2024 年长丰县产业集群变化的主要特征。(6 分)

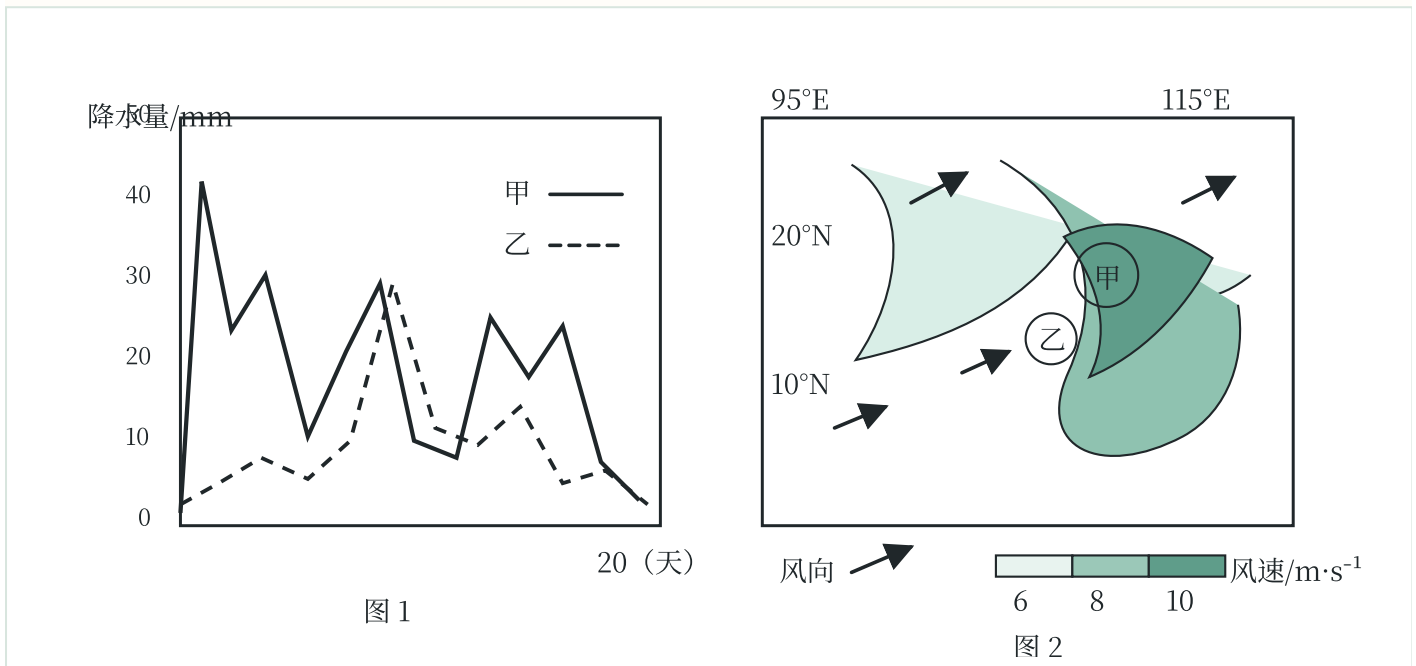
(3) 分析智慧农业谷对长丰县空间均衡发展的作用。(6 分)

18. 阅读图文材料，完成下列要求。(18分)

受季风系统、海陆位置等因素影响，甲、乙海域降水在南海夏季风爆发后表现出显著差异。乙海域表层水体盐度、温度较高，富含营养盐，吸引大洋鱼类聚集。图1示意2011—2020年南海夏季风爆发后20天内甲、

乙海域的日平均降水量。图2示意2011—2020年南海夏季风爆发后甲海域出现强降水时环南海区域的低空平

均风速和主要风向分布。



(1) 据图1，指出与乙海域相比，甲海域降水的主要特征。(4分)

(2) 分析甲海域强降水的成因。(6分)

(3) 结合降水差异和夏季风的影响，分析乙海域大洋鱼类聚集条件的形成原因。(8分)

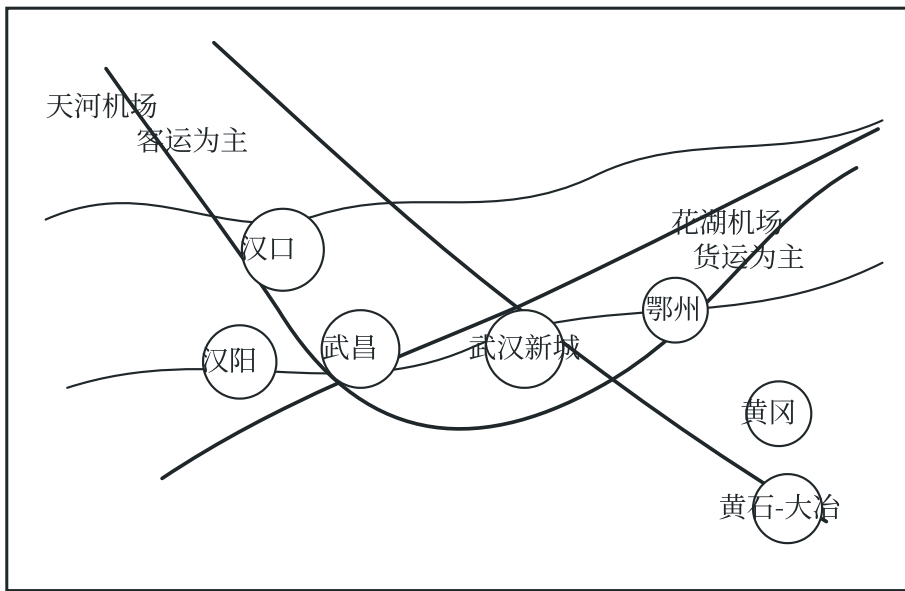
19. 阅读图文材料，完成下列要求。(18分)

“多中心组团式”是都市圈空间组织的重要形态，各组团依据位置、交通等条件，通过要素流动形成分工明确、联系紧密的关联网络。为强化关联网络实现一体化发展，2022年湖北省将“武鄂黄黄”地区划分为8

个城市组团(图)，其中西部的武昌、汉口和汉阳为武汉中心城区组团，人口密度大、房价较高；东部的鄂州、

黄冈、黄石-大冶3个外围组团经济发展水平相对较低，主导产业趋同；武汉新城组团位于“武鄂黄黄”区域

中心，光电子、新材料等产业已初具规模，应不断强化集聚与辐射功能，逐步成为武汉都市圈的增长极。



组团名称	总面积	建设用地
武汉新城组团	719	241
武昌组团	182	180

- 火车站
- 机场
- 高速铁路
- 城际铁路
- 高速公路
- 河流

0 ——— 10 km

- (1) 与武汉新城组团比较，指出武昌组团土地利用的特点。(4分)
- (2) 说明武汉新城组团的位置对其人口集聚的积极影响。(6分)
- (3) 分析黄石-大冶组团依托不同交通方式融入“武鄂黄黄”关联网络的途径。(8分)